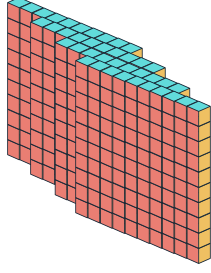


## BASAMAK ADI, BASAMAK VE SAYI DEĞERİ



3 rakamdan oluşan doğal sayılara **3 basamaklı doğal sayılar** denir.

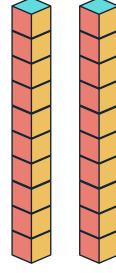
3 basamaklı sayılarda **yüzler basamağı**, **onlar basamağı** ve **birler basamağı** olmak üzere üç farklı basamak bulunur.



4

4 Yüzlük

Yüzler Basamağı



2

2 Onluk

Onlar Basamağı



5

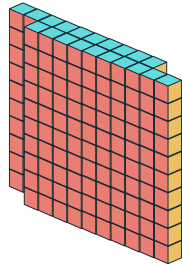
5 Birlik

Birler Basamağı



Bir doğal sayının rakamlarının belirttiği ve basamağa göre değişmeyen değere **sayı değeri** denir.

Bir doğal sayının rakamlarının buldukları basamağa göre aldığı değere **basamak değeri** denir.



2

Sayı Değeri

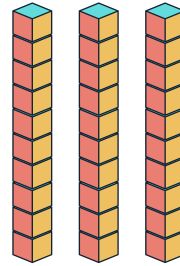
2 tane 100

Basamak Değeri

200

Basamak Adı

Yüzler Basamağı

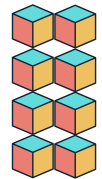


3

3 tane 10

30

Onlar Basamağı



8

8 tane 1

8

Birler Basamağı

Aşağıda verilen cümlelerden doğru olanların yanındaki kutucuğu yeşile, yanlış olanların yanındaki kutucuğu kırmızıya boyayınız.



"867" sayısının onlar basamağındaki rakamın sayı değeri 60'tır.



"306" sayısının yüzler basamağındaki rakamın sayı değeri 3'tür.



Basamak değerleri 300, 1 ve 80 olan sayı 381'dir.



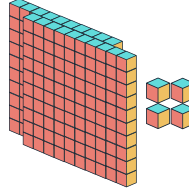
"964" sayısındaki rakamların sayı değerlerinin toplamı 18'dir.



"107" sayısının yüzler basamağındaki rakamın basamak değeri 100'dür.

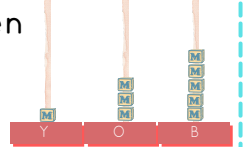
Aşağıdaki soruları dikkatle okuyunuz. Doğru yanıtları işaretleyiniz.

1. Yanda modelle gösterilen sayının rakamlarının basamak değerleri sırasıyla hangi seçenekte doğru verilmiştir?



- A) 200, 40, 4
- B) 300, 0, 4
- C) 200, 0, 4

2. Yanda abaküsle gösterilen sayının rakamlarının sayı değerlerinin toplamı kaçtır?



- A) 7
- B) 135
- C) 9

3. "210" sayısıyla ilgili aşağıda verilen bilgilerden hangisi doğrudur?

- A) İki basamaklı bir sayıdır.
- B) Yüzler basamağındaki rakamın basamak değeri 200'dür.
- C) Yüzler basamağındaki rakamın sayı değeri 200'dür.

4. "307" sayısıyla ilgili aşağıda verilen bilgilerden hangisi yanlıştır?

- A) Sayı değerlerinin toplamı 10'dur.
- B) Onlar basamağındaki rakamın basamak değeri 300'dür.
- C) Birler basamağındaki rakamın basamak değeri 7'dir.